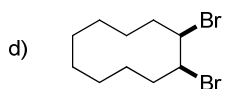
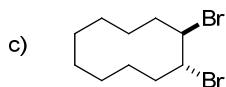
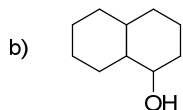
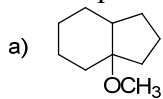
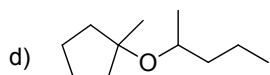
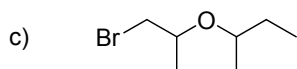
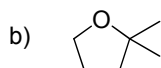
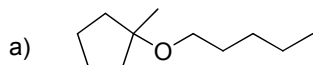


**CHM 1721**  
**Devoir 7 - La synthèse organique**

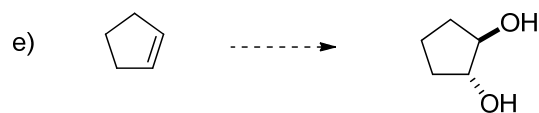
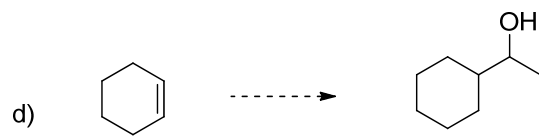
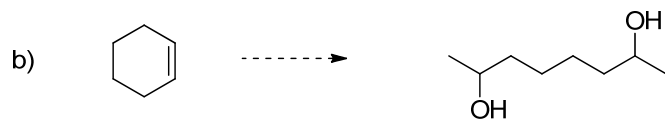
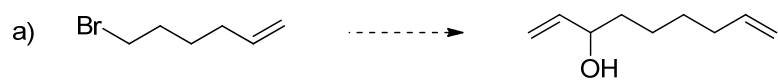
1. Proposez une synthèse des molécules suivantes à partir de l'alcène de votre choix.



2. Proposez une synthèse pour chacune des molécules suivantes à partir d'alcènes possédant six carbones ou moins. Vous pouvez ajouter tous les autres réactifs nécessaires. Une rétrosynthèse doit être incluse.



3. Proposez des méthodes pour accomplir les transformations suivantes (> 1 étape est requise):



4. Proposez une synthèse des molécules suivantes à partir du réactif de départ indiqué.

